
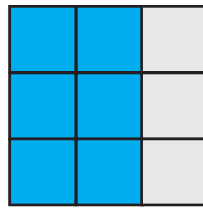


Napiši pomoću razlomka koliki je dio kvadrata označen plavom bojom.




Razlomak je

jer su plavom bojom označena 3 od 4 istih dijelova kvadrata.



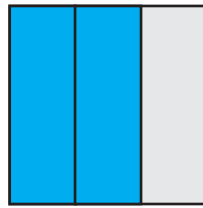
Razlomak je

jer je plavom bojom označeno ___ od 9 istih dijelova kvadrata.



Razlomak je

jer su plavom bojom označena ___ od 2 ista dijela kvadrata.



Razlomak je


jer su plavom bojom označena ___ od 3 ista dijela kvadrata.



Razlomak je



Razlomak je



Razlomak je



Razlomak je



Razlomak je



Razlomak je