


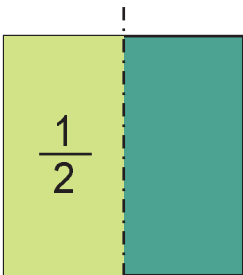
Prouči svaki kvadrat pa zatim dopuni prazna polja.



1 kvadrat

Razlomak  $\frac{1}{1}$

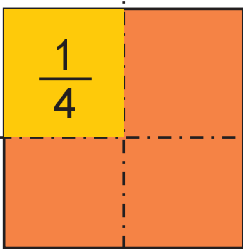
jer je označen cijeli kvadrat  
znači 1 cijeli kvadrat



kvadrat podijeljen  
na 2 jednaka dijela

Razlomak  $\frac{1}{2}$

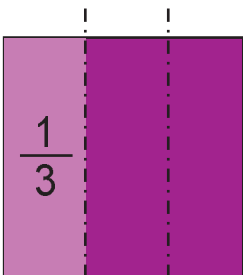
jer je označen 1 od 2 jednaka dijela kvadrata  
znači jedna polovina kvadrata



kvadrat podijeljen  
na 4 jednaka dijela

Razlomak  $\frac{1}{4}$

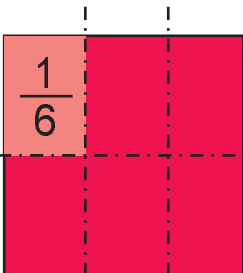
jer je označen 1 od 4 jednaka dijela kvadrata  
znači jedna četvrtina kvadrata



kvadrat podijeljen  
na 3 jednaka dijela

Razlomak

jer je označen 1 od 3 jednaka dijela kvadrata  
znači jedna trećina kvadrata



kvadrat podijeljen  
na 6 jednakih dijelova

Razlomak

jer je označen 1 od 6 jednakih dijelova kvadrata  
znači 1 šestina kvadrata