
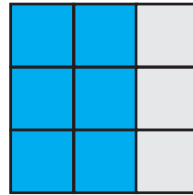


Napiši pomoću razlomka koliki je dio kvadrata označen plavom bojom.




Razlomak je  $\frac{3}{4}$

jer su plavom bojom označena 3 od 4 istih dijelova kvadrata.




Razlomak je  $\frac{6}{9}$

jer je plavom bojom označeno 6 od 9 istih dijelova kvadrata.



Razlomak je  $\frac{2}{2}$

jer su plavom bojom označena 2 od 2 ista dijela kvadrata.



Razlomak je  $\frac{2}{3}$

jer su plavom bojom označena 2 od 3 ista dijela kvadrata.



Razlomak je  $\frac{3}{6}$



Razlomak je  $\frac{4}{5}$



Razlomak je  $\frac{1}{6}$



Razlomak je  $\frac{2}{4}$



Razlomak je  $\frac{5}{8}$



Razlomak je  $\frac{7}{10}$