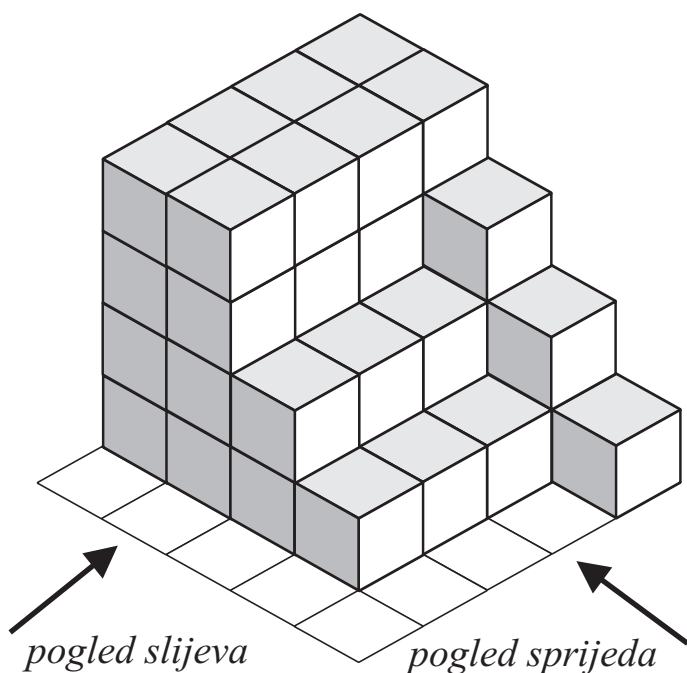



Pogled sprijeda, pogled odozgo, pogled slijeva

Na slici ispod vidimo građevinu od kockica. Pokušaj skicirati nacrt (pogled sprijeda), tlocrt (pogled odozgo) i desni bokocrt (pogled slijeva) prema kojima netko drugi može sagraditi istu takvu građevinu.


Na tlocrtu možeš dodati i visinu - brojeve kockica u svakom stupcu.




pogled sprijeda



pogled odozgo



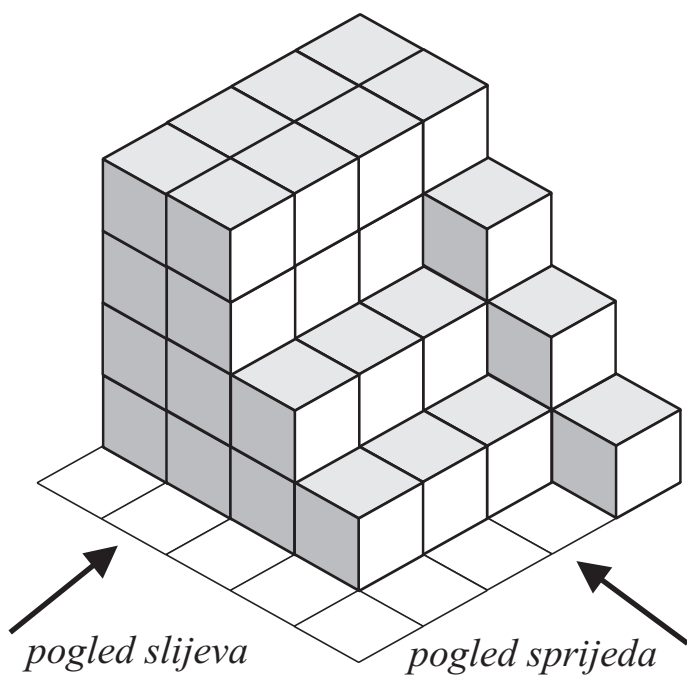
pogled slijeva



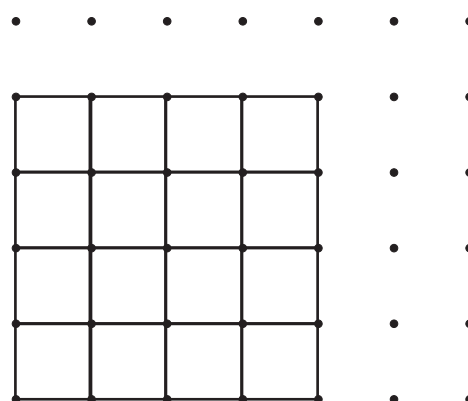
Rješenja

Na slici ispod vidimo građevinu od kockica. Pokušaj skicirati nacrt (pogled sprijeda), tlocrt (pogled odozgo) i desni bokocrt (pogled slijeva) prema kojima netko drugi može sagraditi istu takvu građevinu.

Na tlocrtu možeš dodati i visinu - brojeve kockica u svakom stupcu.



pogled sprijeda



pogled odozgo

4	4	4	4	•	•
4	4	4	4	•	•
2	2	2	3	•	•
1	1	1	2	•	•
			1	•	•
•	•	•		•	•

pogled slijeva

