







# Matematička zagonетка


3. razred




Svaki prikazani simbol označava jedan broj (1-9), a neki su brojevi već upisani.







Pokušaj riješiti računicu.

			7
-			
<hr/>			
		7	3

	=
---	---

	=
---	---

	=
---	---

	3		
+			3
<hr/>			
	9		

	=
---	---

	=
---	---